


Mo

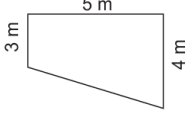
Richtig oder falsch?

A Mit 15 Lkw kann der Aushub einer Grube in 12 Tagen abtransportiert werden. Mit 10 Lkw dauert es 18 Tage.

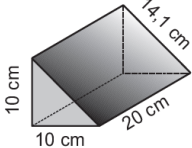


B 1,23 liegt genau in der Mitte zwischen 1,04 und 1,4.

C Der Boden einer Terrasse wird neu gefliest. Man braucht 17,5 m² Fliesen.



D 600 cm² Pappe reichen zum Bau des Körpers.



S richtig **K** falsch **I** richtig **E** falsch **I** richtig **D** falsch **I** richtig **L** falsch

A B C D

Lösungswort:

erledigt kontrolliert

Di

Schriftliche Multiplikation
Berechne schriftlich.

8 7,3 • 5,6 3 2

9,5 6 • 1 2 5,7

4 7 8 • 7 9,6 5

5,9 8 • 7,7 9 3

erledigt kontrolliert

Mi

Berechnung von Zinsen für Monate
Berechne die Zinsen für den angegebenen Zeitraum.

A

800 € zu 2 % in 9 Monaten

900 € zu 4 % in 6 Monaten

1400 € zu 3 % in 2 Monaten

2880 € zu 1,5 % in 8 Monaten

B

1600 € zu 2,25 % in 3 Monaten

1320 € zu 3,5 % in 5 Monaten

4160 € zu 1,2 % in 11 Monaten

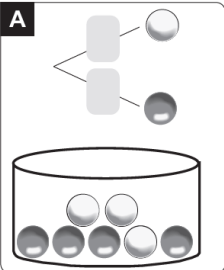
3240 € zu 2,6 % in 7 Monaten

erledigt kontrolliert

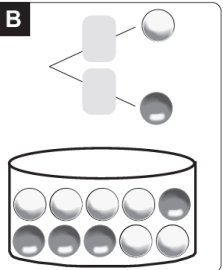
Do

Ergänzen von Baumdiagrammen
Ergänze die Baumdiagramme.

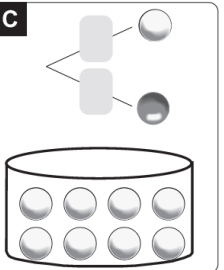
A



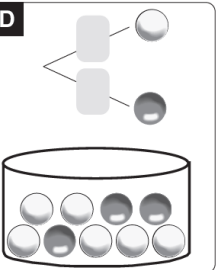
B



C



D



erledigt kontrolliert

Fr

Knifflig: Zwei Sudokus
Fülle jedes der neun Kästchen mit den Ziffern 1 - 9. Jede Ziffer darf in jeder Zeile, jeder Spalte und in jedem der Felder nur einmal erscheinen.

			6	5				
		5	3					7
8	4					5		
9						7		
8		4	2	7				3
	1						8	
	2					9	1	
1				5	4			
			6	3				

5	9	2	4	1	3			
	4		5	9				
8	1	4	7		9	5		
		5	6					
6	2		1	3	7	4		
		6	7		5			
3	2	9	8	7	1			

erledigt kontrolliert